



كل نموذج بروت

381 (802)

موعد صيف (ب)

2021

طاقم الرياضيات

معد IQ



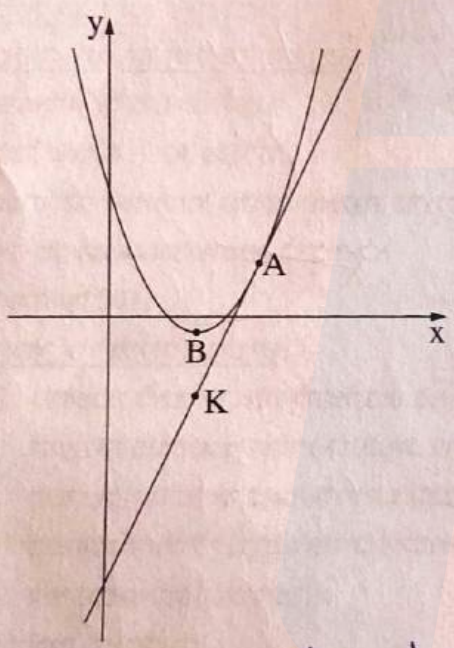
מתמטיקה, קיץ תשפ"א, מועד ב', מס' 035381 + נספח
 الرياضيات، صيف 2021، الموعد "ب"، رقم 035381 + ملحق

الأسئلة

في هذا النموذج ستة أسئلة. لإجابة كاملة عن سؤال تحصل على 30 درجة. يُسمح لك الإجابة بشكل كامل أو جزئي، عن عدد أسئلة كما تشاء، لكن مجموع الدرجات التي تستطيع تجميعها في هذا النموذج لن يزيد عن 100. اكتب جميع الحسابات والإجابات في نموذج الامتحان.

انتبه! فسّر كل خطواتك، بما في ذلك الحسابات، بالتفصيل وبوضوح. عدم التفصيل قد يؤدي إلى خصم درجات أو إلى إلغاء الامتحان.

الجبر



1. معطى قطع مكافئ معادلته $y = x^2 - 6x + 8$ ،

ومستقيم معادلته $y = 4x - 17$ (انظر الرسم).

أ. جد إحداثيات رأس القطع المكافئ (النقطة B في الرسم).

ب. اكتب مجال تصاعد ومجال تنازل القطع المكافئ.

ج. جد إحداثيات النقطة المشتركة بين القطع المكافئ والمستقيم

(النقطة A في الرسم).

النقطة K تقع على المستقيم. معطى أنّ الإحداثي x للنقطة K

يساوي الإحداثي x لرأس القطع المكافئ.

د. جد إحداثيات النقطة K.

p- الإحداثي x لرأس القطع المكافئ يحقق $x = \frac{-b}{2a}$

من معادلة القطع المكافئ $y = x^2 - 6x + 8$ ← $a=1, b=-6$


والتالي:

$$x_{\text{الرأس}} = \frac{-b}{2a} = \frac{-(-6)}{2 \cdot 1} = \frac{6}{2} = 3$$

نجد الإحداثي y نفوض بالمعادلة:

$$y = 3^2 - 6 \cdot 3 + 8 = 9 - 18 + 8 = -1$$

إذن، إحداثيات رأس القطع المكافئ: **B: (3, -1)**



מתמטיקה, קיץ תשפ"א, מועד ב', מס' 035381 + נספח
 الرياضيات، صيف 2021، الموعد "ب"، رقم 035381 + ملحق



ב. مجال تعاضدي $X > 3$ // مجال تنازلي $X < 3$

P معادلة المستقيم $y = 4x - 17$
 معادلة القطع المكافئ $y = x^2 - 6x + 8$

$$x^2 - 6x + 8 = 4x - 17$$

$$x^2 - 10x + 25 = 0 \Rightarrow \text{هذه معادلة تربيعية نحلها}$$

مع المعاملات $a=1, b=-10, c=25$

$$x_{1,2} = \frac{-b \pm \sqrt{b^2 - 4ac}}{2a} = \frac{-(-10) \pm \sqrt{(-10)^2 - 4 \cdot 1 \cdot (25)}}{2 \cdot 1}$$

$$x_{1,2} = \frac{10 \pm \sqrt{100 - 100}}{2} = \frac{10 \pm 0}{2} = 5$$

إذاً الإحداثي x للنقطة A هو 5، نعوّض ونجد y :

$$y = 4x - 17 \Rightarrow y = 4 \cdot 5 - 17 = 3 \Rightarrow A(5, 3)$$

د. يبيّن المعنى الإحداثي x للنقطة K هو نفسه لرأس القطع المكافئ

أي أن $K(3, y_K)$ ، نعوّض 3 في معادلة المستقيم

$$y = 4 \cdot 3 - 17 = 12 - 17 = -5$$

$$K(3, -5)$$



מתמטיקה, קיץ תשפ"א, מועד ב', מס' 035381 + נספח

الرياضيات، صيف 2021، الموعد "ب"، رقم 035381 + ملحق

2. أرسلت رانية 4 طرود في البريد، كل واحد من الطرود وزنه مختلف، واشترت طابعاً لكل طرد. يُحدّد سعر الطابع حسب وزن الطرد.

أسعار الطوابع التي اشترتها رانية تُكوّن متوالية حسابية.

سعر أعلى طابع هو 3 أضعاف سعر أرخص طابع.

دفعت رانية مقابل جميع الطوابع الأربعة مبلغاً كلياً قدره 96 شيكلاً.

أ. ما هو سعر أرخص طابع، وما هو سعر أعلى طابع؟ فضّل حساباتك.

ب. ما هو سعر كل واحد من الطابعين الآخرين؟ فضّل حساباتك.

بما ان الطرود ال 4 عبارة عن متوالية حسابية
لذلك نفرض ارخص طرد a_1

اذا يتتقون $a_1, a_1+d, a_1+2d, a_1+3d$
الطرد الاول (الارخص) الطرد الثاني (السعر) الثالث الرابع

معلومات عن الطرد الرابع 3 اشقات الاول (الأرخص)

$$3a_1 = a_1 + 3d \Rightarrow 2a_1 = 3d$$

كذلك معلوم ان مجموع تكلفه كل الطرود هو 96

$$a_1 + (a_1 + d) + (a_1 + 2d) + (a_1 + 3d) = 96$$

$$\Rightarrow 4a_1 + 6d = 96$$



מתמטיקה, קיץ תשפ"א, מועד ב', מס' 035381 + נספח
 الرياضيات، صيف 2021، الموعد "ب"، رقم 035381 + ملحق



חשבנו עליו מראשיתו - מתוך:

$$2 \times \begin{cases} 2a_1 = 3d \\ 4a_1 = 6d \end{cases} \xrightarrow{\substack{\text{נפוש} \\ \text{בדל } a_1}} \begin{cases} 2a_1 = 3d \\ 4a_1 = 6d \end{cases}$$

$$\Rightarrow 4a_1 + 6d = 96 \Rightarrow 6d + 6d = 96$$

$$\Rightarrow 12d = 96 \Rightarrow d = \frac{96}{12} = 8$$

אז $d = 8$, נכנס a_1 נפוש ב המעלה $2a_1 = 3d$ ונמצא a_1

$$2a_1 = 3d \Rightarrow 2a_1 = 3 \cdot 8 = 24 \rightarrow a_1 = \frac{24}{2} = 12$$

אז $a_1 = 12$ ו $3a_1 = 36$ ו $a_1 = 12$

אז $a_1 = 12$ ו $3a_1 = 36$ ו $a_1 = 12$

ב. אָמַר הַטּוֹבִים

$$d = 8$$

$$a_1, a_1 + d, a_1 + 2d, a_1 + 3d$$

$$\downarrow \quad \downarrow \quad \downarrow \quad \downarrow$$

$$12 \quad 12 + 8 = 20 \quad 12 + 2 \cdot 8 = 28 \quad 36$$

אז $a_1 = 12$ ו $3a_1 = 36$ ו $a_1 = 12$

3. כְּמִיֶּה מַאֲדָה אִשְׁעָעִיֶּה מְעִינֶה תִּקַּל כָּל שָׂעָה בְּנִסְבֵּה מְעוּיֶה תֹּבֵטֶה.

פִּאס אֶחָד אֵלְמָא כְּמִיֶּה מַאֲדָה תְּלַאֵת מְרָאֵת פִּי נִפְס הַיּוֹם.

פִּי הַשָּׂעָה 7:00 סְבִיחָא כָּאֵנֶת כְּמִיֶּה מַאֲדָה 60 גְרָאמָא.

פִּי הַשָּׂעָה 10:00 סְבִיחָא כָּאֵנֶת כְּמִיֶּה מַאֲדָה 50 גְרָאמָא.

א. מַהִי הַנִּסְבֵּה הַמְעוּיֶה הַתִּי תִּקַּל בִּיהָ כְּמִיֶּה מַאֲדָה כָּל שָׂעָה?

פִּאס אֵלְמָא כְּמִיֶּה מַאֲדָה פִּי הַמְרָה הַתְּלֹאֵת פִּי נִפְס הַיּוֹם פִּי הַשָּׂעָה 16:00 אַבַּד הַזְּהֵר.

ב. כִּמֵּ כָּאֵנֶת כְּמִיֶּה מַאֲדָה פִּי הַפִּיאָס הַתְּלֹאֵת?

ג. פִּי אֵיֶה שָׂעָה כָּאֵנֶת כְּמִיֶּה מַאֲדָה חֹוֵלֵי 44 גְרָאמָא?

פִּי הַשָּׂעָה הַשִּׁבְעִיֶּה יִלְחַץ הַפִּיאָס הַלְּוִי $M_0 = 60$

פִּי הַשָּׂעָה הָעֲשָׂרָה אַבַּד מְרֹוֹ 3 שָׂעָת $M_3 = 50$

$$M_3 = M_0 \cdot q^3 \Rightarrow 50 = 60 \cdot q^3 \Rightarrow \frac{50}{60} = q^3$$

$$\Rightarrow q^3 = \frac{5}{6} \Rightarrow q = \sqrt[3]{\frac{5}{6}} = 0.941$$


אִדָּא אַבַּד כָּל שָׂעָה תִּשְׁבַּע מִיֶּה מַאֲדָה 0.941 מִן

הַכִּמִּיֶּה הַלְּוִי כָּאֵנֶת וְהַלְּוִי הַכִּמִּיֶּה הַתִּי תִּקַּל בְּנִסְבֵּה

$$1 - 0.941 = 0.059$$

וְהַנִּסְבֵּה הַמְעוּיֶה הַזֶּה:

$$0.059 \cdot 100\% = 5.9\%$$



מתמטיקה, קיץ תשפ"א, מועד ב', מס' 035381 + נספח
 الرياضيات, صيف 2021, الموعد "ب", رقم 035381 + ملحق



ب في الساعة 16:00 اي بعد 9 ساعات عن طيبه القيتس الأولى

يتفق

$$M_9 = M_0 \cdot q^9 \rightarrow M_0 = 60 \cdot (0.941)^9 = 34.71$$

إذا طيبه المادة الساعة 16:00 هي 34.71 غرام.

$$M_t = M_0 \cdot q^t \rightarrow 44 = 60 \cdot (0.941)^t \quad M_t = 44 - P.$$

$$\rightarrow \frac{44}{60} = 0.941^t \rightarrow 0.733 = 0.941^t$$

تقريباً ونجدت

بأنه في الساعة 10:00 (t=3) كانت طيبه
 المادة 50 غرام، إذاً نبدأ القيس في t=4

$$0.941^4 = 0.784 \quad X$$

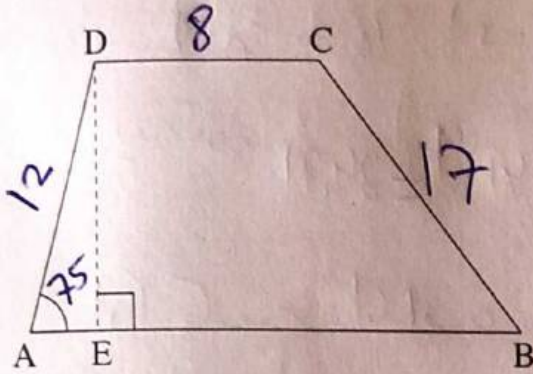
$$0.941^5 = 0.737 \quad \text{تقريباً } t=5$$

اي أنه بعد مرور 5 ساعات تتكون طيبه المادة
 44 غرام بالتقريب اي الساعة 12:00

מתמטיקה, קיץ תשפ"א, מועד ב', מס' 035381 + נספח
 الرياضيات، صيف 2021، الموعد "ب"، رقم 035381 + ملحق



حساب المثلثات



4. في شبه المنحرف ABCD ($AB \parallel CD$)

معطى أن: $AD = 12$ سم، $DC = 8$ سم، $CB = 17$ سم،

$\angle DAB = 75^\circ$

DE هو ارتفاع شبه المنحرف (انظر الرسم).

أ. جد طول القطعة AE.

ب. جد طول ارتفاع شبه المنحرف DE.

ج. جد طول القاعدة الكبرى AB.

د. احسب مساحة شبه المنحرف.

هـ. جد مقدار الزاوية DBA.

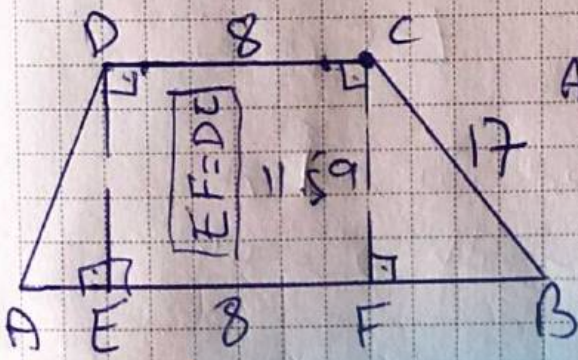
أ- في $\triangle AED$

$\cos 75 = \frac{AE}{12} \Rightarrow AE = 12 \cdot \cos 75 = 3.106$

$AE = 3.106$

ب- في $\triangle AED$
 $\sin 75 = \frac{DE}{12} \Rightarrow 12 \cdot \sin 75 = DE$

$DE = 11.59$



د- لرسم في C ارتفاع على القاعدة AB

$CF = DE = 11.59$

مع فيساجورس
 $CF^2 + FB^2 = CB^2$
 $(11.59)^2 + FB^2 = 289 \Rightarrow FB^2 = 289 - 134.33$

$\Rightarrow FB^2 = 154.671 \Rightarrow FB = \sqrt{154.671} = 12.44$

أزاً: $AB = AE + EF + FB = 23.546$

ايتبع في صفحة 11 / 3.106 8 12.44

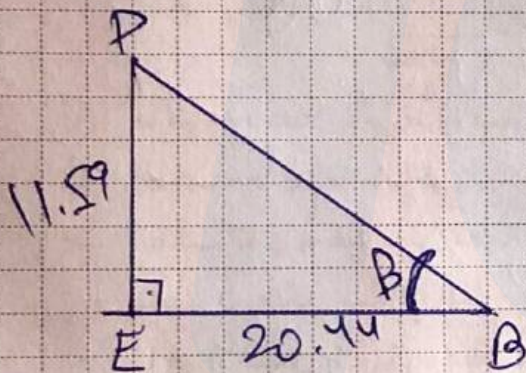


מאמאאא, קאן אשא "א, מואאד ב', מס' 035381 + נספא
 אאאאאא, אאא 2021, המואאד "ב", אאא 035381 + מלאא

א. אאא אאא המאא = $\frac{(אאא + אאא) \cdot אאא}{2}$. האאא

$$S_{ABCP} = \frac{(DC + AB) \cdot DE}{2} = \frac{(8 + 23.546) \cdot (11.59)}{2}$$

$$S_{\text{המאא}} = 182.77$$



א. אאא אאא אאא

$$EB = EF + FB = 8 + 12.44$$

$$EB = 20.44$$

$$DE = 11.59$$

$$\tan \beta = \frac{11.59}{20.44}$$

אאא

$$\tan \beta = 0.564 \Rightarrow \beta = 29.45$$

$$\angle DBA = \beta = 29.45^\circ$$

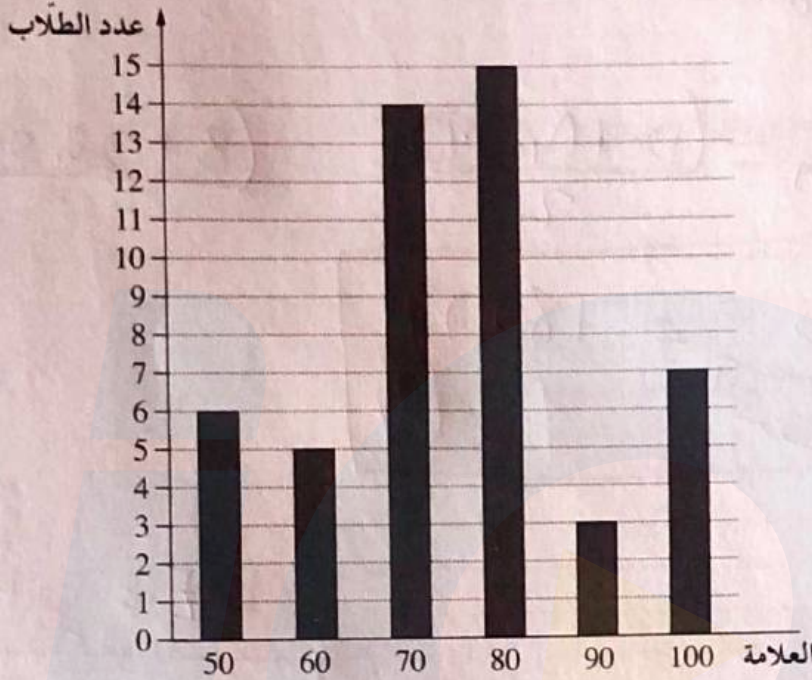
מתמטיקה, קיץ תשפ"א, מועד ב', מס' 035381 + נספח

الرياضيات، صيف 2021، الموعد "ب"، رقم 035381 + ملحق



الاحتمال والإحصاء

5. مخطط الأعمدة الذي أمامك يعرض توزيع العلامات في الرياضيات التي حصل عليها جميع طلاب طبقة صفوف العاشر في المدرسة الثانوية "البلدية" "أ".



- أ. ما هو عدد الطلاب في طبقة صفوف العاشر في المدرسة الثانوية "البلدية" "أ"؟
 ب. احسب معدّل العلامات في الرياضيات لطلاب طبقة العاشر في المدرسة الثانوية "البلدية" "أ".
 ج. الطالب الذي يحصل على علامة أعلى من 89 يُعتبر طالبًا متميزًا.
 يختارون بشكل عشوائي طالبًا من طلاب طبقة صفوف العاشر في المدرسة الثانوية "البلدية" "أ".
 ما هو الاحتمال بأن يكون الطالب الذي اختير طالبًا متميزًا؟
 د. أحد الطلاب في طبقة صفوف العاشر اعترض على العلامة التي حصل عليها.
 بعد إعادة الفحص، ارتفعت علامة الطالب بـ 20 درجة.
 ما هو معدّل العلامات الجديد لجميع طلاب طبقة صفوف العاشر؟

4) نبني جدول يعبر عن المعطيات

العلامة	50	60	70	80	90	100	المجموع
عدد الطلاب	6	5	14	15	3	7	= 50
العلامات	300	300	980	1200	270	700	= 3750

عدد الطلاب في طبقة العاشر = 50 طالب

$$\text{معدل العلامات} = \frac{3750}{50} = 75$$

ايتبع في صفحة 13 /



מתמטיקה, קיץ תשפ"א, מועד ב', מס' 035381 + נספח
 الرياضيات، صيف 2021، الموعد "ب"، رقم 035381 + ملحق

פ. - الطلاب الذين يحصلون على علامة أعلى من 89 هم الطلاب
 الذين يهبطون على 90 أو 100 وعدد هم 3
 البريم داخل 7 + 3 = 10 طلاب
 وبالتالي احتمال اختيار طالب متميز يمكن تحوي هو

$$P(\text{طالب متميز}) = \frac{10}{50} = \frac{1}{5}$$

ג. - بما أن علامة الطالب الذي اعترف على علامة
 ونتيجة الاعتراف انخفضت علامته 20 علامة
 وبالتالي تغيير المجموع الكلي واضح :-

$$\text{مجموع العلامات: } 3750 + 20 = 3770$$

وعدد الطلاب لم يتغير وبقى 50 لذلك

$$\text{المعدل الجديد} = \frac{3750 + 20}{50} = \frac{3770}{50} = 75.4$$

$$\text{المعدل الجديد} = 75.4$$

6. العلامات التي حصل عليها طلاب امْتِحِنوا في امتحان قطريّ تتوزع طبيعياً، والانحراف المعياريّ هو 8.

84% من العلامات هي أقل من 75 .

أ. ما هو معدّل علامات الطلاب؟

ب. يختارون بشكل عشوائي علامة أحد الطلاب الذين امْتِحِنوا.

ما هو الاحتمال بأن تكون العلامة التي اختيرت أقل من 55 ؟

ج. تقدّم لامتحان 95,000 طالب .

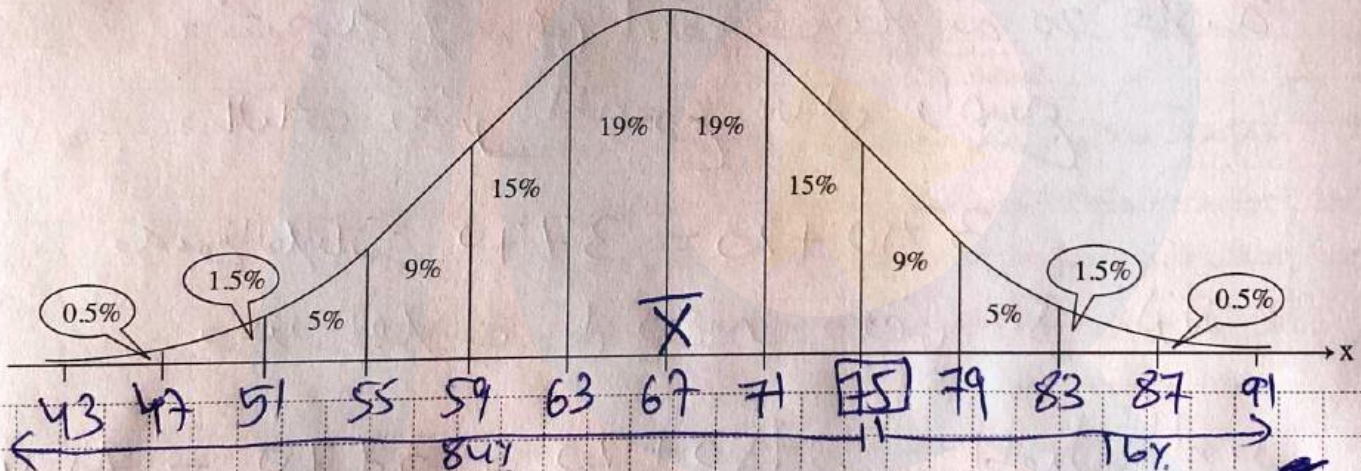
د. حسب الرسم البيانيّ للتوزيع الطبيعيّ، كم طالباً حصل على علامة أعلى من 55 لكن أقل من 75 ؟

الطلاب الذين حصلوا على أعلى علامات يحظون بوسام .

تقرّر بأن يحظى 2% فقط من الطلاب بوسام .

ما هي أقل علامة يحظى مقابلها طالب بوسام ؟

أمامك الرسم البيانيّ للتوزيع الطبيعيّ من لائحة القوانين . استعن به في حساباتك .



بحسب المعطيات فإن 84% من الطلاب حصلوا على علامة أقل من 75، وبالتالي نعيّن على المنحنى اللدنة 75 بحيث تكون 84% من العلامات أقل منها وبالتالي تكون كما صيغ بالرسم .

الانحراف المعياريّ هو 8 وبالتالي بين كل علامة والتالي هناك $\frac{8}{2} = 4$ علامات .



מתמטיקה, קיץ תשפ"א, מועד ב', מס' 035381 + נספח

الرياضيات، صيف 2021، الموعد "ب"، رقم 035381 + ملحق

נענין העלמות על המבחן הביאיי מבחן התוארע الطبيعي

• במסד המבחן הביאיי מסד העלמות هو 67

• נביעה העלמות التي أقل من 55 هي :-

$$0.5\% + 1.5\% + 5\% = 7\%$$

• وبالتالي احتمال اجتياز طالب علامة أقل من 55 هو 7%

• نسبة الطلاب الذين علاماتهم بين 55 و 75 هي :-

$$9\% + 15\% + 19\% + 19\% + 15\% = 77\%$$

• وعدد هم هو :-

$$77\% \cdot 95000 = \frac{77}{100} \cdot 95000$$

$$= \boxed{73150}$$

• نبيعت من العلامة التي ^{صناديق} أقل من 2% من العلامات الكلية هي

لجميع الكردل 2% من العلامات أقل من 83

وبالتالي كل طالب مهم على علامة 83 أو أعلى سيحصل

على دبلوم

בהצלחה!

نتمنى لك النجاح!

זכות היוצרים שמורה למדינת ישראל.

אין להעתיק או לפרסם אלא ברשות משרד החינוך.

حقوق الطبع محفوظة لدولة إسرائيل.

النسخ أو النشر ممنوعان إلا بإذن من وزارة التربية والتعليم.

لتصفح صفحات دفتر إضافية/

1-700-7066-22 | www.IQsmart.co.il

لا تكتب في هذه المنطقة
لا تكتب في هذه المنطقة
لا تكتب في هذه المنطقة